

ТВОЙ Герой

ОБУЧАЮЩИЙ

РАУНД

СОПЕРНИК
Железяка

3


4


Пункты
здоровья

Если ошибся в примере защиты,
зачеркни ответ и закрась один
пункт своего здоровья

Если ответ в примере атаки
верный, поставь галочку и закрась
один пункт здоровья соперника

Пункты
здоровья

 $3 \times 3 =$ ~~X~~


 $5 \times 1 =$ ✓

Раскрась
своего
героя



МЕСТО ДЛЯ ГЕРОЯ

 $2 \times 2 =$
Пример атаки


 $2 \times 3 =$
Пример защиты

 $2 \times 1 =$

 $2 \times 4 =$

 $4 \times 2 =$

Раскрась
соперника



1 метр

Высота 1 метр,
относительно
которой можно
понять размер
соперника

- 1 Реши все примеры
- 2 Проверь все ответы
- 3 Рассчитай исход поединка