


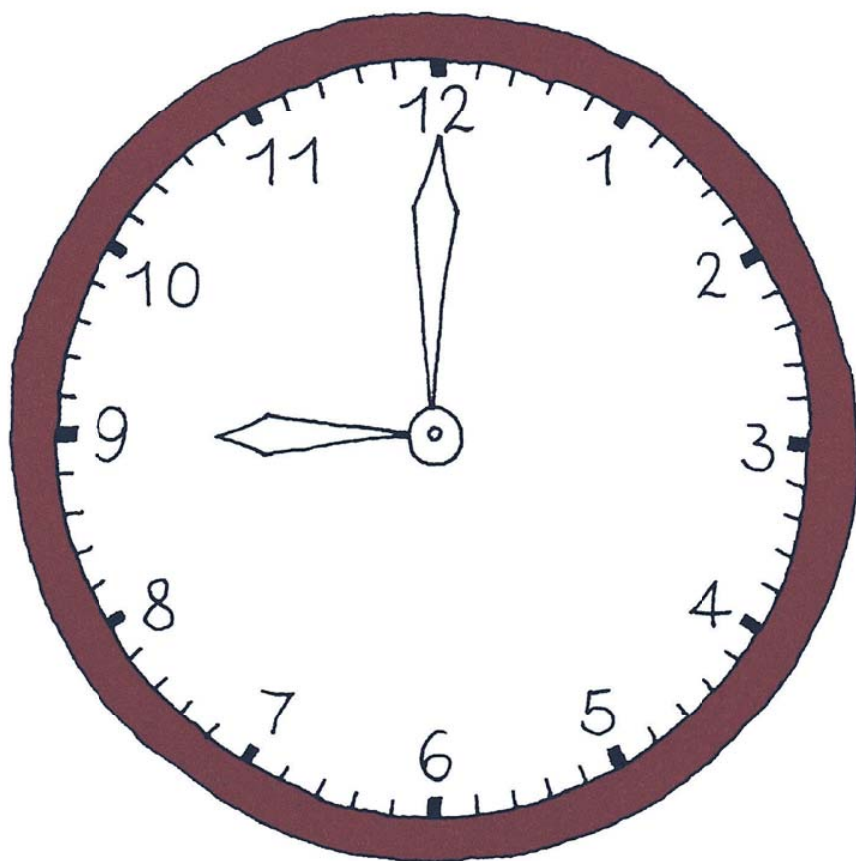



Чи вмієш ти користуватися годинником?



Петсон змайстрував великий годинник, але ще не встиг його розфарбувати.
Допоможи Петсонові це зробити.

Велика стрілка відлічує години, а маленька стрілка — хвилини.



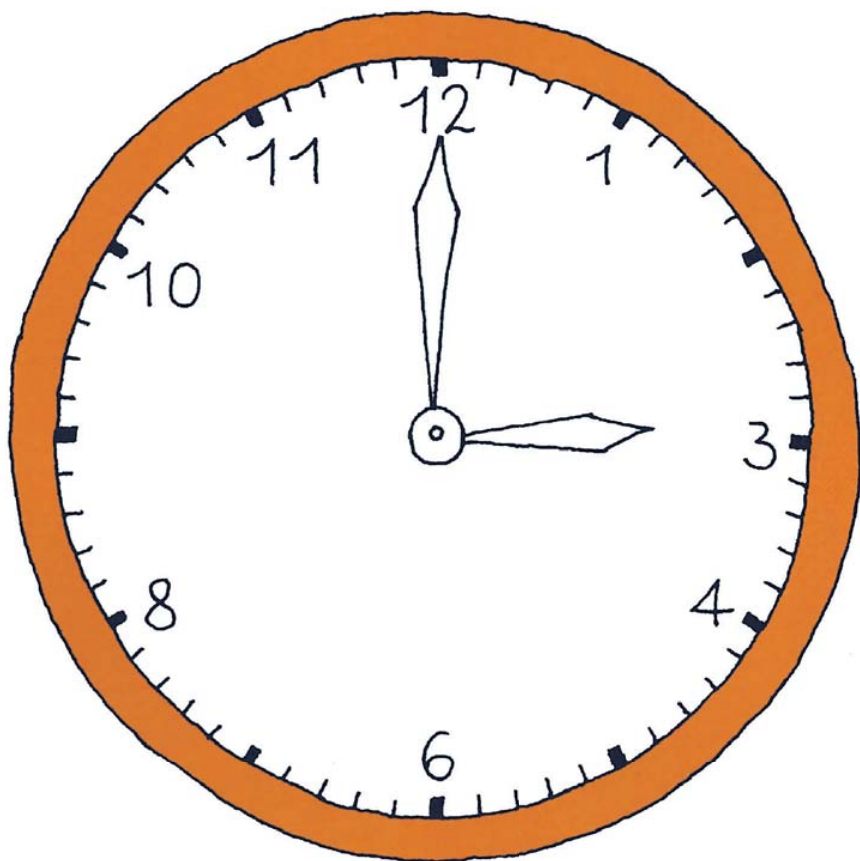
Година минає, коли хвилинна стрілка обійде усі 60 поділок на циферблаті, бо в одній годині — 60 хвилин.



Фіндус теж виготовив годинник. На жаль, на циферблаті цього годинника бракує кількох чисел. Зможеш написати їх там, де потрібно?

Годинник Петсона показує дев'яту годину. Котру годину показує годинник Фіндуса?




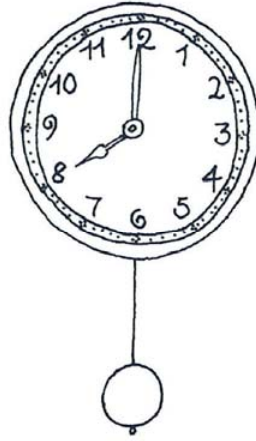
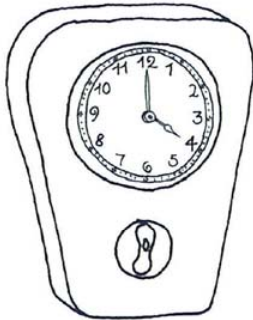
Година



На циферблатах більшості годинників розташовано числа від 1 до 12. Кожне число відповідає певній годині. Оскільки доба має 24 години, то маленька годинна стрілка мусить щодоби обійти циферблат двічі: раз — удень і раз — уночі.



Глянь, скільки тут годинників! Знайди серед них ті, що показують однаковий час, і з'єднай їх у пари лініями.



Знаєш, котру годину показує кожна пара годинників?

На малюнку зображено шість різних годинників. Чи знаєш ти, як вони називаються? Який із них не показує годин?



Підкажи Фіндусові, який час показують інші п'ять годинників.

